

Arbeitsblatt - Landeskunde

vitamin de, Nr. 47 / Winter 2010, S. 14 - 15

Niveau ab GER B1

Text: Hohe Berge - Die Alpen



Hörverstehen



Leseverstehen

www.pixelo.de

1. Welche Gebirge kennen Sie in Europa? Ordnen Sie die Länder den Gebirgen zu.

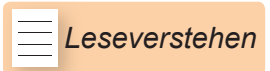
der Altai
 die Alpen
 die Anden
 die Apenninen
 der Balkan
 die Karpaten
 der Tibet
 die Pyrenäen

Bulgarien
 Italien
 Rumänien
 Spanien
 Österreich

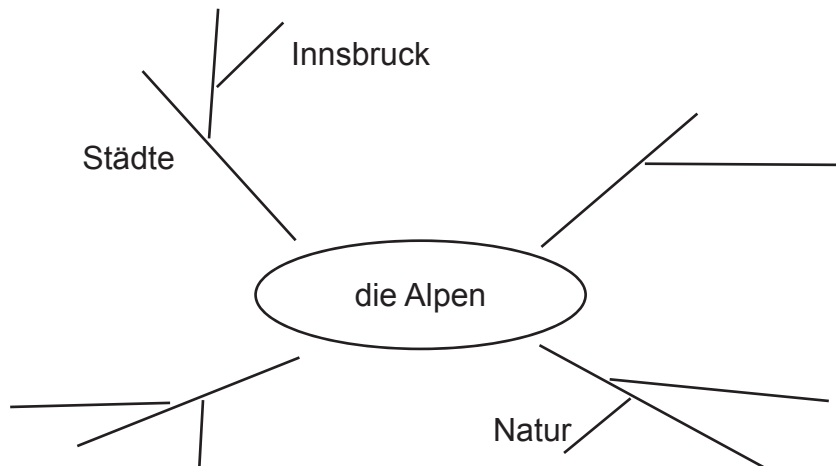
2. Ergänzen Sie die Liste der europäischen Gebirge und der dazugehörigen Länder.

_____	_____
_____	_____
_____	_____

Text: Hohe Berge - Die Alpen



3. Was wissen Sie über die Alpen? Ergänzen Sie ein Mind-Map.



4. Hören Sie sich den Text an und nummerieren Sie die Reihenfolge der Textteile.

	Kulturraum Alpen
	Die Alpen vor 2000 und heute
	Naturraum Alpen
	Lebensraum Alpen

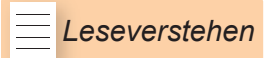
5. Lesen Sie den Text und merken Sie sich die wichtigsten Informationen.



6. Was passt nicht in die Reihe? Streichen Sie es heraus.

- 1) Die Alpenländer sind *Deutschland, Frankreich, Italien, Liechtenstein, Monaco, die Slowakei, Österreich, die Schweiz.*
- 2) Die hohen Berge in den Alpen heißen *Gran Paradiso, Mont Blanc, Mount McKinley, Zugspitze, Zuckerhütl.*
- 3) In den Alpen liegen die Städte *Andorra, Lugano, Bozen, Sonthofen, Vaduz.*
- 4) In den Alpen wachsen *das Edelweiß, der Enzian, die Mimose, der Rhododendron, das Veilchen.*
- 5) In den Alpen leben *das Murmeltier, der Tiger, die Schneemaus, der Steinbock, der Wolf.*

Text: Hohe Berge - Die Alpen



7. Suchen Sie die acht Alpenstaaten im Buchstabensalat (von oben nach unten, von unten nach oben, von links nach rechts, von rechts nach links und diagonal).

L H N U D R Y Z F F N C Q D W
 D I G E N J I J R Q E H K E O
 Q Z E Q I E F A Z I I S W U H
 N V Q C W N N S I L L V Q T N
 F V B H H K E G J M A U A S G
 L G C T R T Z W X H T A O C L
 F S S E A K E L O Y I C H H V
 X W I I X J U N Q L Q G C L H
 E C M O N A C O S I S C V A F
 H L C X C V I I T T O I C N H
 H C I E R R E T S Ö E M I D D
 L H A T S V U O E R Q I A E Z
 Z L V O G V C A T V Y F N K Q
 T O F V Q O L V O E N X U M Z
 O T W E H F Z S H M Q R U A E

8. Sortieren Sie die Berge der Alpen nach ihrer Höhe. Vergleichen Sie die Berge miteinander.

Dachstein, Gran Paradiso, Großglockner, Hochfeiler, Hochschwab, Mädelegabel, Mont Blanc, Wildspitze, Zugspitze, Zuckerhütl

Muster: Das Zuckerhütl ist höher als die Zugspitze.

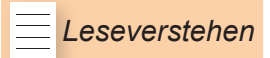
Der Mont Blanc ist der höchste Berg in den Alpen.

9. Sortieren Sie die Städte nach ihrer Größe. Vergleichen Sie diese Städte miteinander.

Innsbruck, Lugano, Vaduz, Villach

Muster: Innsbruck ist größer als Lugano. Lugano ist kleiner als Innsbruck.

10. Wählen Sie sich ein Reiseziel in den Alpen. Warum wäre dieser Ort besonders attraktiv für Sie? Was würden Sie dort machen?



Methodische Hinweise und Lösungen

WICHTIG! Für die Aufgaben 1 - 4 benutzt man nur Arbeitsblätter und NICHT den Originaltext!

1. Lösung:

die Alpen	Österreich
die Apenninen	Italien
der Balkan	Bulgarien
die Karpaten	Rumänien
die Pyrenäen	Spanien

4. Lösung:

3	Kulturraum Alpen
1	Die Alpen vor 2000 und heute
4	Naturraum Alpen
2	Lebensraum Alpen

6. Lösung:

1) die Slowakei 2) Mount McKinley 3) Andorra 4) die Mimose 5) der Tiger

7.

L H N U D R Y Z F F N C Q D W
 D I G E N J I J R Q E H K E O
 Q Z E Q I E F A Z I I S W U H
 N V Q C W N N S I L L V Q T N
 F V B H H K E G J M A U A S G
 L G C T R T Z W X H T A O C L
 F S S E A K E L O Y I C H H V
 X W I I X J U N Q L Q G C L H
 E C M O N A C O S I S C V A F
 H L C X C V I I T T O I C N H
 H C I E R R E T S Ö E M I D D
 L H A T S V U O E R Q I A E Z
 Z L V O G V C A T V Y F N K Q
 T O F V Q O L V O E N X U M Z
 O T W E H F Z S H M Q R U A E

(Liechtenstein – diagonal nach unten rechts; Schweiz – diagonal nach oben rechts; Frankreich – diagonal nach unten links; Slowenien – diagonal nach oben links; Monaco – von links nach rechts; Österreich – von rechts nach links; Italien – von unten nach oben; Deutschland – von oben nach unten)

8.

Hochschwab (2277), Mädelegabel (2645), Zugspitze (2962), Dachstein (2995), Zuckerhütl (3507), Hochfeiler (3510), Wildspitze (3774), Großglockner (3797), Gran Paradiso (4061), Mont Blanc (4810)

9.

Vaduz ist am kleinsten. Innsbruck ist am größten.